

TESTE



COMUNICARE ÎN LIMBA ROMÂNĂ




MATEMATICĂ



EXPLORAREA MEDIULUI ÎNCONJURĂTOR

CLASA I



EDITURA CARMINIS
educational



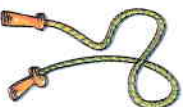



A. TESTE GRILĂ PE DISCIPLINE ȘCOLARE

TESTE MODEL



Testul nr. 1

Încercuiește răspunsul corect!

1. Denumirea obiectului  este:
 a) telecomandă b) televizor c) temperatură d) telefon
2. În scrierea cuvântului „lalele”, litera „l” apare:
 a) de două ori b) o dată c) de trei ori d) de patru ori
3. Pentru a obține un cuvânt din „d...d”, în locul punctelor se scrie litera:
 a) e b) u c) i d) a
4. Ordonând literele „e”, „d”, „r” și „c” se obține cuvântul:
 a) cerc b) card c) cred d) cart
5. Cuvântul care nu a fost scris corect este:
 a) colorat b) iera c) catedră d) culoar
6. Cuvântul compus din trei silabe este:
 a)  b)  c)  d) 
7. Din propoziția „Elena ... elevă.” lipsește cuvântul:
 a) acum b) este c) crește d) învață
8. Propoziția care descrie imaginea alăturată este:
 a) Ema are un zmeu. c) Matei are un camion.
 b) Copiii au un zmeu. d) Băiatul are un zmeu.
9.  apare în povestea:
 a) „Capra cu trei iezi” de Ion Creangă
 b) „Punguța cu doi bani” de Ion Creangă
 c) „Ursul păcălit de vulpe” de Ion Creangă
 d) „Făt-Frumos din lacrimă” de Mihai Eminescu



Timp de lucru: 30 de minute



Testul nr. 2

1. În desenul alăturat apar:



- a) 12 pisici b) 14 pisici **c) 11 pisici** d) 15 pisici


2. Florile galbene din vaza alăturată sunt în număr de:

- a) 5 b) 9 c) 7 **d) 3**



3. În șirul 1, 2, 2, 3, 3, 3, 4, 4, 4, 4, 5, ..., numărul care urmează este:

- a) 6 b) 4 **c) 5** d) 3



- a) 16 b) 13 c) 18 **d) 17**

5. Rezultatul operației $16 - 1$ este:

- a) 15** b) 13 c) 17 d) 20

6. Pentru a obține o operație corectă, în căsuțe trebuie scrise semnele:

$$15 \square 1 \square 2 = 16$$

- a) +, + b) +, - c) -, - **d) -, +**

7. Numărul cu 6 mai mic decât numărul zilelor săptămânii este:

- a) 7 b) 8 **c) 1** d) 6

8. Numărul mai mic decât 19 și mai mare decât $16 + 1$ este:

- a) 17 **b) 18** c) 15 d) 16

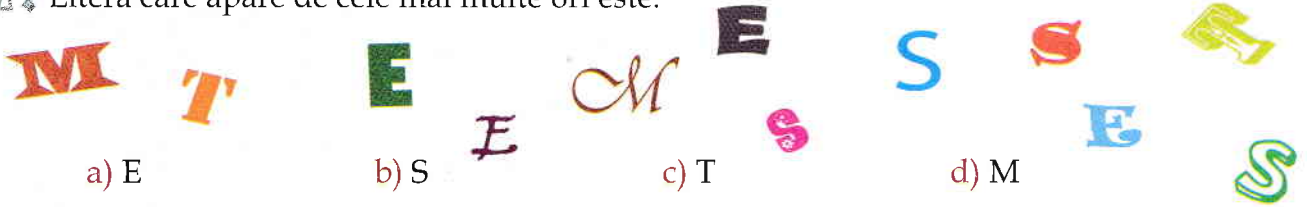
9. Irina are 28 de ani și este mai mare cu un an decât Vlad. Vlad are:

- a) 27 de ani** b) 29 de ani c) 30 de ani d) 21 de ani

Timp de lucru: 30 de minute

Încercuiește răspunsul corect!

1. Litera care apare de cele mai multe ori este:



a) E

b) S

c) T

d) M

2. Pentru a obține un cuvânt cu înțeles asemănător cuvântului „dar”, în cuvântul „_ a _ o _” se pun literele:

a) c, l, s

b) o, u, i

c) c, d, s

d) c, d, u



are:

a) două silabe

c) trei silabe

b) patru silabe

d) o silabă

4. Propoziția alcătuită din trei cuvinte este:

a) Eu am un penar albastru.

c) Culorile sunt în cutie.

b) Elevelle citesc.

d) Cărțile sunt noi.

5. Pentru a obține un proverb, ordinea corectă a cuvintelor de mai jos este:

mică

1

mare

2

Buturuga

5

carul

4

răstoarnă

3

a) 1, 2, 3, 4, 5

b) 4, 2, 3, 5, 1

c) 5, 2, 3, 4, 1

d) 5, 1, 3, 4, 2

6. În povestea „Capra cu trei iezi” de Ion Creangă nu apare:

a) iedul

b) capra

c) vulpea

d) lupul

7. Propoziția în care fiecare cuvânt are câte trei silabe este:

a) Irina adună flori.

c) Școala este aproape.

b) Fluturașul zboară repede.

d) Băiatul citește povestea.

8. Intrusul din șirul de cuvinte *puternic, timid, voinic, tare*, este:

a) puternic

b) timid

c) voinic

d) tare

9. Cuvântul care are același sens cu „darnic” este:

a) zgârcit

b) risipitor

c) generos


d) econom

Timp de lucru: 30 de minute

Încercuiește răspunsul corect!


1. În desenul alăturat apar:

- a) 5 fluturi și 12 albine
 b) 6 fluturi și 11 albine
 c) 7 fluturi și 13 albine
 d) 6 fluturi și 14 albine





2. În careu sunt:

- a) 8 flori și 8 frunze
 b) 9 flori și 7 frunze
 c) 8 flori și 9 frunze
 d) 7 flori și 9 frunze



3. Clovnul jonglează cu:

- a) 5 bile
 b) 6 bile
 c) 7 bile
 d) 9 bile



4. Animalele din desenul alăturat au împreună:

- a) 14 picioare
 b) 12 picioare
 c) 10 picioare
 d) 6 picioare

5. Cifra folosită cel mai des pentru scrierea numerelor de mai jos este:



- a) 4
 b) 8
 c) 2
 d) 1

6. Mama i-a dat astăzi lui Ionuț

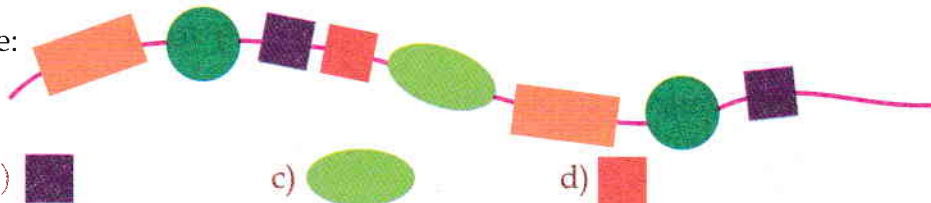


. Începând de acum, în fiecare zi, băiatul va

mânca . Dacă marți va mânca ultimul măr, atunci Ionuț a primit merele:

- a) luni
 b) duminică
 c) sâmbătă
 d) vineri


7. Figura care urmează este:



- a)
 b)
 c)
 d)

8. În fotografie nu apare:

We know books



9. Adunând cel mai mare număr impar cu cel mai mic număr par din șirul 13, 20, 1, 2, 16, 17, se obține:

a) 10

b) 19

c) 18

d) 17


Timp de lucru: 30 de minute




Testul nr. 5

Încercuiește răspunsul corect!

1. Umbra corectă pentru vacuță este:



2. În careul alăturat sunt scrise pe verticală sau pe orizontală denumirile următoarelor fructe:



E	P	M	Ă	C
O	R	Ă	R	A
N	U	R	E	I
R	N	U	S	S
P	A	R	A	E